



III EDYCJA KONKURSU OGÓLNOPOLSKIEGO Z „WIEDZY OGÓLNEJ”

skierowanego do uczniów klasy 1 szkoły podstawowej

dnia 05 marca 2018r.

czas pracy 60 minut



Ilość punktów do zdobycia: maksymalnie 25. Powodzenia!

W pytaniach 1 - 5 zaznacz jedną prawidłową odpowiedź:

Pytanie 1 (1pkt)

O co poprosiła Kaczka Dziwaczka u fryzjera w wierszu Jana Brzechwy?

- A) kilo sera B) mleka pięć deka C) pocztowe znaczki D) czubek z kokardą

Pytanie 2 (1pkt)

Które owady zapylają kwiaty?

- A) biedronka B) motyl C) pszczoła D) wszystkie odpowiedzi są prawidłowe

Pytanie 3 (1pkt)

Co znajduje się w herbie Warszawy?

- A) Wars i Sawa B) smok wawelski C) syrenka D) Zamek Królewski

Pytanie 4 (1pkt)

Symbolem Świąt Wielkanocnych jest:

- A) karp B) kukła Marzanny C) dynia D) jajko

Pytanie 5 (1pkt)

Oznaczenie symbolizujące osobę niepełnosprawną możemy spotkać:

- A) na parkingach
B) przy toaletach publicznych
C) w autobusie
D) wszystkie odpowiedzi są prawidłowe



Pytanie 6 (2pkt)

Jakich drzew są to liście?



A.



B.



C.



D.

Pytanie 7 (2pkt)

Jaką część odzieży ubieramy odpowiednio do pory roku? Wymień 3 elementy garderoby charakterystycznych dla każdej z pór roku.

- A) wiosna B) lato C) jesień D) zima

Pytanie 8 (2pkt)

Podaj tytuł hymnu Polski.

Pytanie 9 (2pkt)

Jaś miał oszczędzone 10 zł. Otrzymał od babci 5 zł. W sklepie wydał 3 zł na sok i 8 zł na kredki. Ile razem pieniędzy pozostało chłopcu?

Pytanie 10 (2pkt)

Dokończ zdania:

- A) Mama mojej mamy to dla mnie
B) Głównym składnikiem na kogiel – mogiel jest
C) Kalendarzowa wiosna rozpoczyna się w miesiącu
D) Dzień Dziecka obchodzimy dnia
E) Waluta obowiązująca w Polsce to

Pytanie 11 (2pkt)

Połącz linią postać z jej miejscem zamieszkania.



Święty Mikołaj



Koziołek Matołek



Kubuś Puchatek



Plastuś

Pacanów

Stumilowy las

Piórnik

Laponia

Pytanie 12 (2pkt)

Kapusta pekińska to:



A.



B.



C.



D.


Pytanie 13 (2pkt)

Diagram uzupełnij cyframi tak, aby w każdym rzędzie poziomym, w każdej kolumnie pionowej, w każdym małym 6 – polowym prostokącie (otoczonym grubszą linią) oraz na obu przekątnych oznaczonych szarym kolorem znalazło się 6 różnych cyfr od 1 do 6.


		6	1	2	
	2	1			
6	4		2	5	
					3
3		4			
					6

Pytanie 14 (2pkt)

Połącz linią nazwę zwierzęcia oraz jej potomstwa.




krowa



żaba



koń



koza



kura

kijanka

jagnię

pisklę

źrebię

cielak

Pytanie 15 (2pkt)

Uzupełnij wyrazy odpowiednimi literami (h, ch, ż, rz, ó, u):

.....oreograf

.....uślawka

.....eżucha

gżeg.....ółka

obr.....s

kł.....dka