

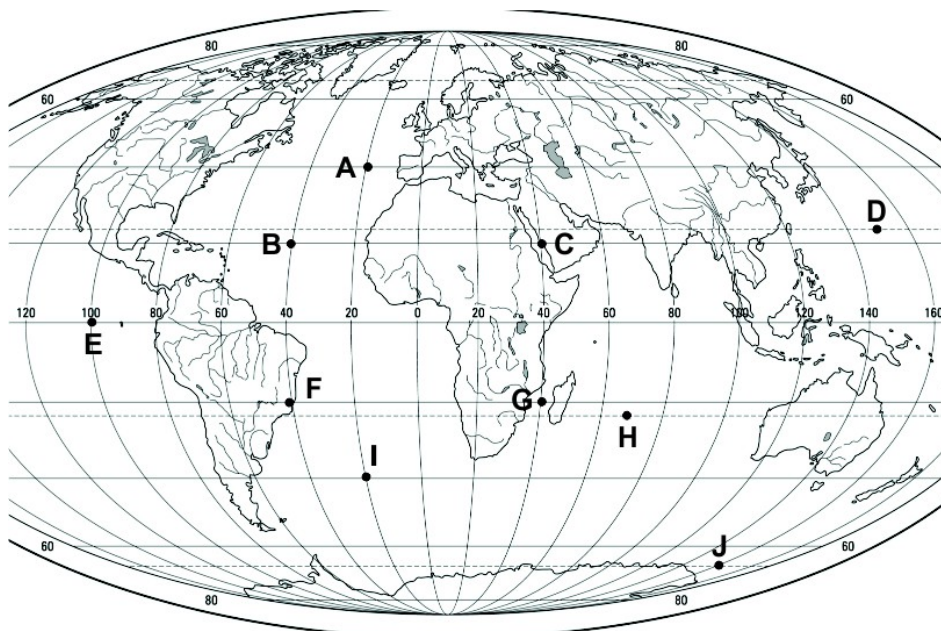


**VII EDYCJA OGÓLNOPOLSKIEJ OLIMPIADY
Z „GEOGRAFII”**
skierowanej do uczniów klas 7 - 8 szkoły podstawowej
kwiecień 2021r.



Liczba punktów do zdobycia: maksymalnie 25. Powodzenia!

RYSUNEK DO PYTAŃ 1 – 3 ORAZ 7



Pytanie 1 (1pkt) Który z zaznaczonych punktów położony jest w rzeczywistości najbliższej bieguna południowego?

- A) A B) I C) J D) H

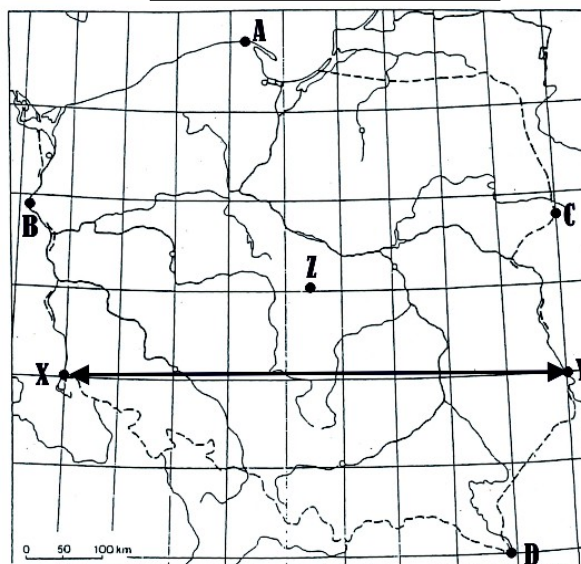
Pytanie 2 (1pkt) Który z zaznaczonych punktów znajduje się na zworotniku Koziorożca?

- A) D B) E C) H D) J

Pytanie 3 (1pkt) Który z zaznaczonych na mapie punktów ma współrzędne geograficzne 20°S , 40°W?

- A) A B) B C) F D) G

MAPA DO PYTAŃ 4 - 6 ORAZ 8



Pytanie 4 (1pkt) 3 spośród 4 zaznaczonych na mapie punktów (A, B, C, D) przedstawia poprawnie najbardziej wysunięte fragmenty terytorium Polski. Jeden zaznaczony jest błędnie. Który z nich?

- A) A B) B C) C D) D

Pytanie 5 (1pkt) Punkt Z zaznaczono w geometrycznym środku Polski. Jak nazywa się miasto, w pobliżu którego on się znajduje?

- A) Środa Wielkopolska B) Tum k/Łęczycy C) Piątek D) Sobota

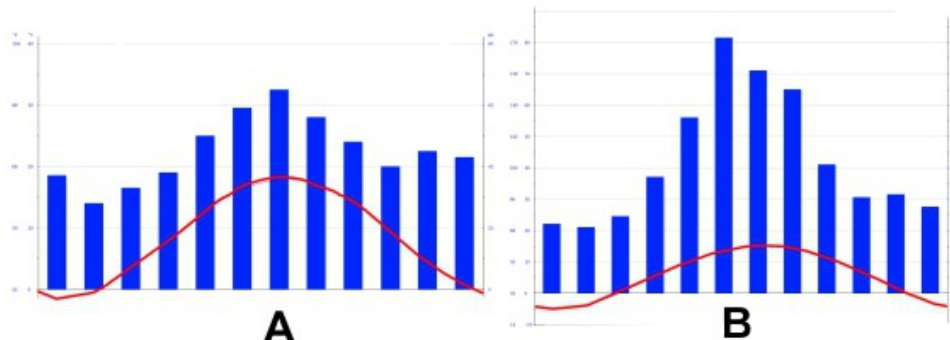
Pytanie 6 (2pkt) Przez którą z wymienionych krain geograficznych nie przechodzi odcinek XY zaznaczony na mapie strzałką?

- A) Wyżyna Lubelska B) Wyżyna Małopolska C) Kotlina Sandomierska D) Nizina Śląska

Pytanie 7 (2pkt) Oblicz w kilometrach odległość między punktem E, a południkiem 0°. Wynik podaj z dokładnością do pełnych kilometrów.

Pytanie 8 (2pkt) Oblicz różnicę czasu słonecznego pomiędzy punktami X i Y na mapie Polski.

RYSUNEK DO PYTAŃ 9 – 10



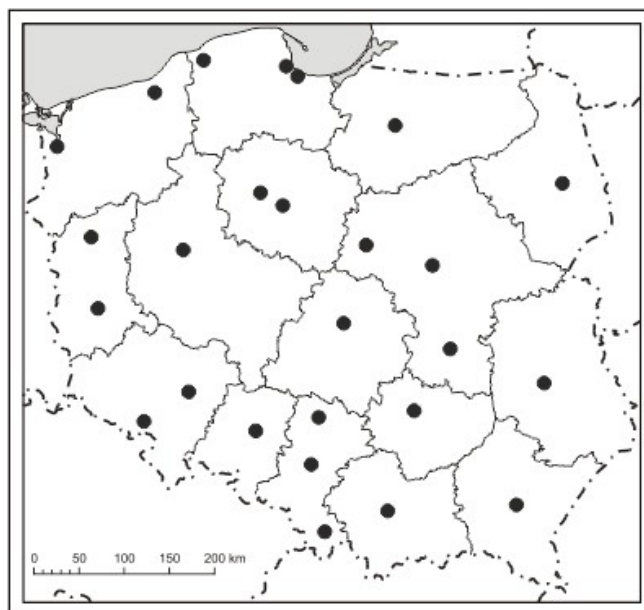
Pytanie 9 (2pkt) Na podstawie diagramów klimatycznych z miast **A** i **B**, określ w którym z nich jest większa roczna amplituda temperatury powietrza.

Pytanie 10 (2pkt) Dokończ zdanie, tak aby było prawdziwe dobierając jedną z odpowiedzi.

*Klimat przedstawiony na diagramie **B** cechuje się dość niskimi temperaturami powietrza i dużymi opadami latem.
Jest więc typowy dla obszarów położonych*

nad morzem / na nizinach / w górach / na północy kraju

MAPA DO PYTAŃ 11 – 13



Pytanie 11 (2pkt) Podpisz na mapie nazwę państwa, z którym granicę przecina Odra.

Pytanie 12 (2pkt) Wpisz na mapie nazwę województwa, położonego między województwem podkarpackim, a łódzkim.

Pytanie 13 (2pkt) Podpisz na mapie miasto, które jest stolicą województwa przy granicy z Rosją.

Pytanie 14 (2pkt) Która z wymienionych zestawów zawiera nazwy rzek dorzecza Odry?

- A) Warta, Nysa Łużycka, Noteć B) Pilica, Narew, San
C) Dunajec, Nida, Bzura D) Wieprz, Parsęta, Bug

Pytanie 15 (2pkt) Podaj nazwę parku narodowego, którego logotyp przedstawiono.

