



**IX EDYCJA OGÓLNOPOLSKIEJ OLIMPIADY
Z „GEOGRAFII”**
skierowanej do uczniów klas 5 - 6 szkoły podstawowej
MARZEC 2022



Liczba punktów do zdobycia: maksymalnie 25. Powodzenia!

MAPA PARKU ŹRÓDLISKA (DO PYTAŃ 1 - 4 ORAZ 7)




Pytanie 1 (1pkt) Mapa przedstawia Park Źródlika położony w Łodzi, na wschód od ulicy Piotrkowskiej, która biegnie równoległe do ul. Przędzalnianej. Określ, który z punktów (A - D) położony jest najbliżej tej ulicy?

- A) A B) B C) C D) D

Pytanie 2 (1pkt) Które z podanych stwierdzeń jest fałszywe?

- A) Punkt X jest położony na SW od Palmiarni.
B) Muzeum Kinematografii znajduje się na W od punktu X.
C) Spośród podpisanych ulic najbliższej południka 0° znajduje się ul. Targowa.
D) Mostek znajdujący się koło stawu położony jest na W od punktu C.

Pytanie 3 (1pkt) Co przedstawia użyty na mapie znak punktowy  (niebieski okrąg)?

- A) studnia B) altana C) latarnia D) źródło

Pytanie 4 (1pkt) Którą, z pokazanych za pomocą poziomic form terenu (A - D) przedstawia kotlinę?

- A) A B) B C) C D) D

Pytanie 5 (1pkt) Dla której z wymienionych krain geograficznych, charakterystyczny jest pokazany na zdjęciu krajobraz?

- A) Wybrzeża Słowińskiego
B) Wyżyny Lubelskiej
C) Pojezierza Mazurskiego
D) Tatr

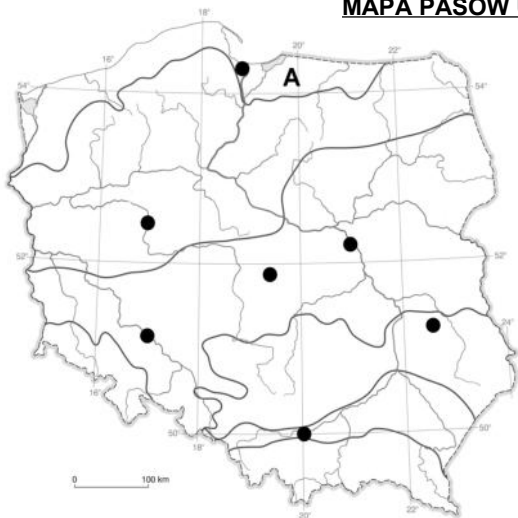


Pytanie 6 (2pkt) W pobliżu którego z wymienionych miast zobaczymy na mapie hipsometrycznej Polski ciemnozielony kolor?

- A) Kraków B) Elbląg C) Lublin D) Zakopane

Pytanie 7 (2pkt) Na mapie Parku Źródlika w skali 1 : 7 500, odległość między Palmiarnią a Muzeum Kinematografii wynosi 4 cm. Oblicz rzeczywistą odległość między tymi obiektami w terenie, w linii prostej.

MAPA PASÓW UKSZTAŁTOWANIA POWIERZCHNI POLSKI (DO PYTAŃ 8 - 10)

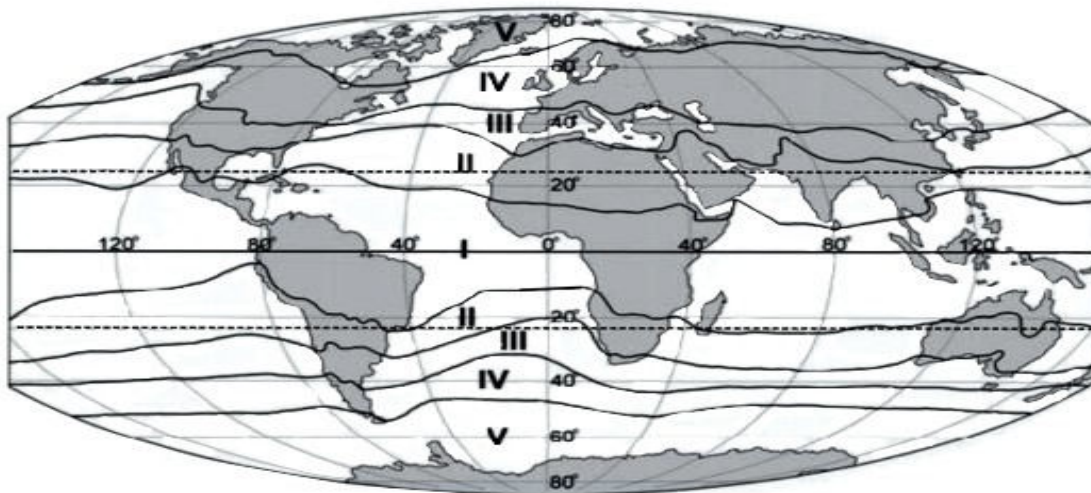


Pytanie 8 (2pkt) Podaj nazwę pasa krajobrazu oznaczonego literą A.

Pytanie 9 (2pkt) Podpisz przy właściwym symbolu na mapie • , nazwę największego miasta pasa kotlin podkarpackich.

Pytanie 10 (2pkt) Wpisz w odpowiednim miejscu na mapie nazwę rzeki przepływającej przez Poznań.

MAPA STREF KRAJOBRAZOWYCH ZIEMI (DO PYTAŃ 11 – 14)



Pytanie 11 (2pkt) Wpisz w odpowiednim miejscu na mapie nazwę oceanu, który przebyła wyprawa Krzysztofa Kolumba płynąc do Indii.

Pytanie 12 (2pkt) Podpisz na mapie kontynent, który w całości położony jest na południe od zwrotnika Koziorożca.

Pytanie 13 (2pkt) Określ, którą cyfrą rzymską podpisano na mapie strefę krajobrazową, w której położona jest Grenlandia?

Pytanie 14 (2pkt) Podaj nazwę kontynentu, który charakteryzuje się symetrycznym układem stref krajobrazowych.

Pytanie 15 (2pkt) Podaj nazwę strefy krajobrazu dla której charakterystyczny jest przedstawiony niżej diagram klimatyczny.

