



**X EDYCJA OGÓLNOPOLSKIEJ OLIMPIADY
Z „WIEDZY OGÓLNEJ”**
skierowanej do uczniów klasy 2 szkoły podstawowej
dnia 14 listopada 2022r.



Liczba punktów do zdobycia: maksymalnie 25. Powodzenia!

Pytanie 1 (1pkt) Co według powiedzenia możemy rzucać na wiatr?

- A) kłody B) słowa C) komplementy D) kłamstwa

Pytanie 2 (1pkt) Które miasto uznawane jest za polski biegun zimna?

- A) Świnoujście B) Sławno C) Suwałki D) Zakopane

Pytanie 3 (1pkt) Która forma jest prawidłowa?

- A) wziąć B) wziąć C) wzionć D) wziąć

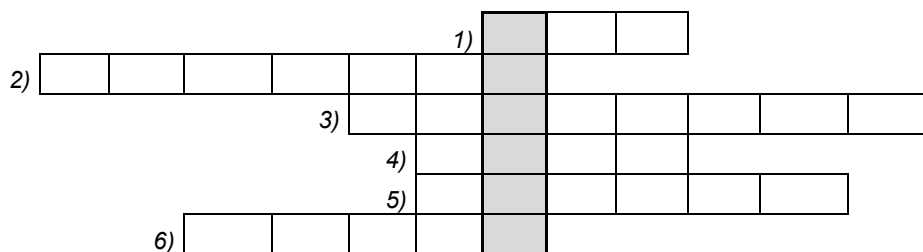
Pytanie 4 (1pkt) Jeśli córka Katarzyny jest moją matką, to kim ja jestem dla Katarzyny?

- A) wnuczką B) jestem Katarzyną C) córką D) matką

Pytanie 5 (1pkt) O czymś lub o kimś mówimy, że jest czysty i nieskazitelny jak ...?

- A) diament B) szmaragd C) ocena D) łoża

Pytanie 6 (2pkt) Rozwiąż krzyżówkę wpisując w odpowiednie pozycje nazwy przedmiotów znajdujących się na obrazkach.



1)

2)

3)

4)

5)

6)



Pytanie 7 (2pkt) Uzupełnij tytuły książek lub bajek o brakujące słowa.

- A) „Akademia pana"
B) „..... Dziwaczka”.
C) „Księżniczka na grochu”.

Pytanie 8 (2pkt) Czy na terenie naszego kraju znajdują się wodospady?

Pytanie 9 (2pkt) Podkreśl, która pisownia jest prawidłowa?

- A) Lubiany przez uczniów przedmiot szkolny to ... język angielski / Język Angielski.
B) Nasza planeta to ... ziemia / Ziemia.
C) Wpaść na doskonałe rozwiązanie to inaczej ... wymyślić coś / wymyśleć coś.
D) W tej książce ... jest napisane / pisze, że koty mają intuicję.

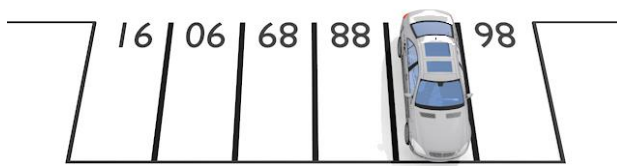
Pytanie 10 (2pkt) Jaki jest wynik tego równania?

- $jabłko + jabłko + jabłko = 30$
 $jabłko + banany + banany = 18$
 $banany - gruszka = 1$
 $gruszka + jabłko + banany = ?$

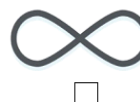
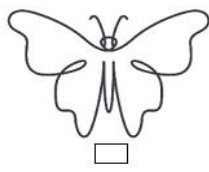

	+		+		=	30
	+		+		=	18
	-		=	1		
	+		+		=

Pytanie 11 (2pkt) Wanda i Marek mają 5 córek. Każda córka ma 1 brata. Ile dzieci mają Wanda i Marek?

Pytanie 12 (2pkt) Na którym miejscu zaparkował ten samochód?



Pytanie 13 (2pkt) Zaznacz uniwersalne symbole pokoju (symbole antywojenne).




Pytanie 14 (2pkt) Sport widoczny na obrazku to ...



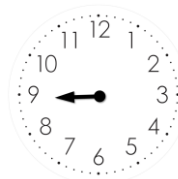
Pytanie 15 (2pkt) Na „którą godzinę” powinniśmy ustawić sztucę po zakończonym posiłku?




A)



B)



C)



D)