

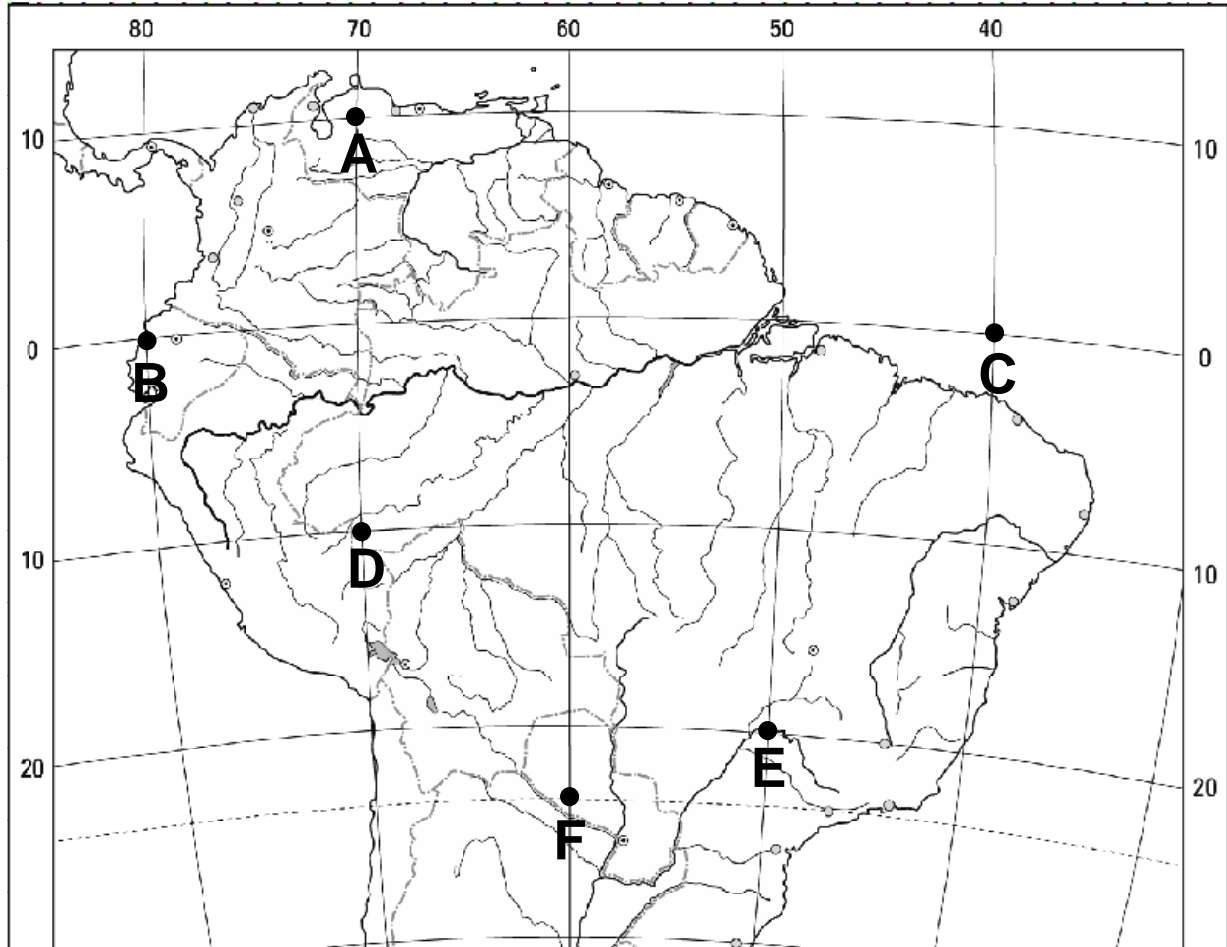
X EDYCJA OGÓLNOPOLSKIEJ OLIMPIADY Z „GEOGRAFII”

skierowanej do uczniów klas 7 - 8 szkoły podstawowej
dnia 18 listopada 2022r.



Liczba punktów do zdobycia: maksymalnie 25. Powodzenia!

Mapa Ameryki Południowej do pytań 1 - 3 i 7



Pytanie 1 (1pkt) Który z zaznaczonych na mapie punktów jest położony na najdłuższym z równoleżników?

- A) A B) C C) D D) F

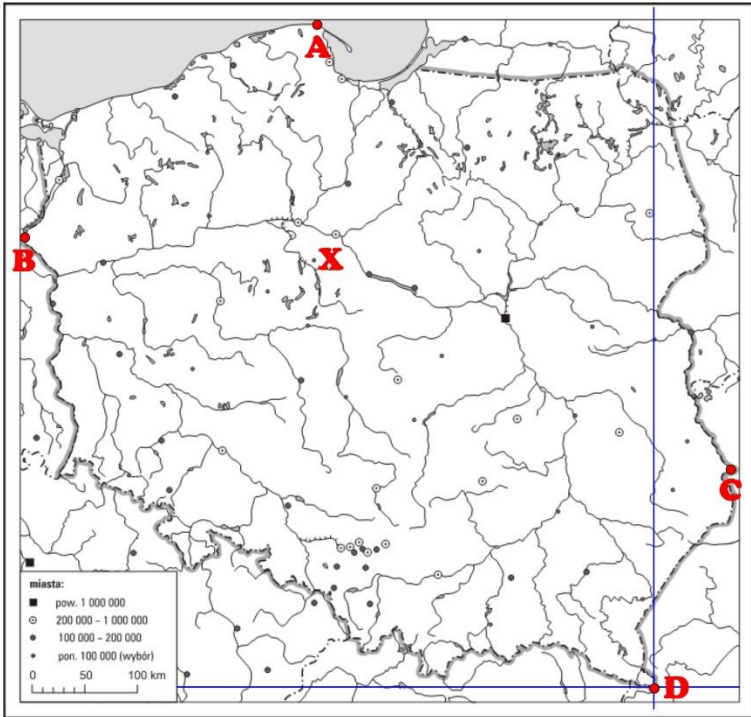
Pytanie 2 (1pkt) Który z zaznaczonych punktów położony jest na zwrotniku Raka?

- A) A B) E C) F D) żaden z zaznaczonych

Pytanie 3 (1pkt) Który z zaznaczonych na mapie punktów ma współrzędne geograficzne 10°S, 70°W?

- A) A B) B C) D D) żaden z zaznaczonych

Mapa Polski do zadań 4 - 6 i 8 - 10



Pytanie 4 (1pkt) Jaką wartość ma równoleżnik przechodzący przez najbardziej na południe wysunięty punkt terytorium Polski?
A) 49°N B) 49°S C) 24°E D) 24°N

Pytanie 5 (1pkt) Który spośród zaznaczonych na mapie skrajnych punktów terytorium Polski jest położony na zewnętrznej granicy Unii Europejskiej?
A) żaden z zaznaczonych B) A C) B D) D

Pytanie 6 (2pkt) Który z opisów położenia geometrycznego środka Polski nie jest prawdziwy?
A) znajduje się w województwie łódzkim
B) leży w miejscu przecięcia odcinków AD i BC
C) znajduje się w Piątku
D) znajduje się na Mazowszu

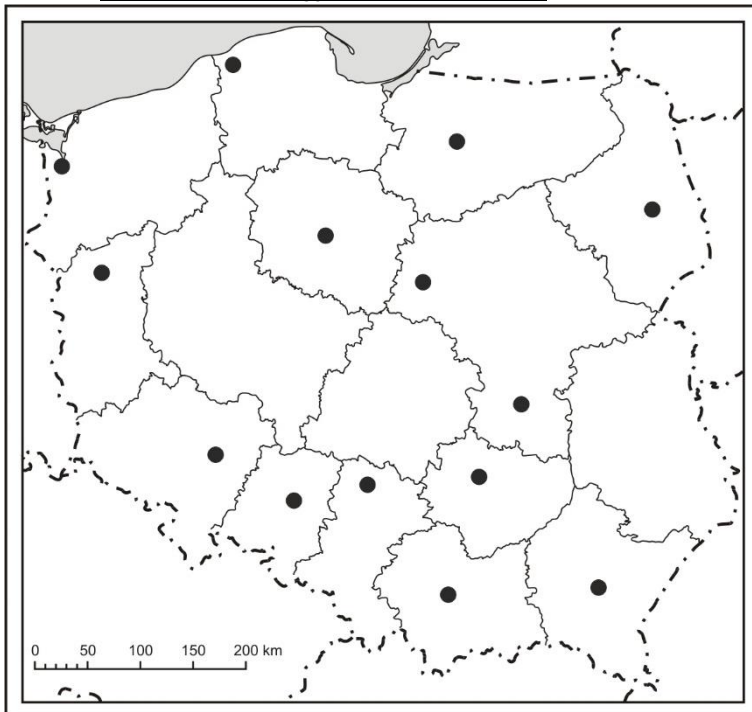
Pytanie 7 (2pkt) Oblicz, ile kilometrów dzieli w rzeczywistości zaznaczone na mapie Ameryki Południowej punkty B i C?

Pytanie 8 (2pkt) Odległość między skrajnymi punktami terytorium Polski zaznaczonymi na mapie punktami A i D wynosi 18 cm. W rzeczywistości jest to 720 km. Oblicz skalę liczbową, w której wykonano tę mapę.

Pytanie 9 (2pkt) W którym z zaznaczonych na mapie punktów, 22 czerwca dzień trwa najdłużej?
A) A B) B C) C D) D

Pytanie 10 (2pkt) Które ze zdań opisujących cechy położenia punktu X jest prawdziwe?
A) Znajduje się na obszarze najmniejszych rocznych sum opadów.
B) Znajduje się w pasie kotlin.
C) Znajduje się na obszarze o najdłuższym okresie wegetacji roślin.
D) Znajduje się w zlewisku Morza Północnego.

Mapa administracyjna do zadań 11 – 13



Pytanie 11 (2pkt) Podpisz na mapie nazwę miasta zaznaczonego kółkiem znajdującego się na terenie województwa śląskiego.

Pytanie 12 (2pkt) Podpisz na mapie nazwę województwa, które wzięło nazwę od miasta. Miasto to jest zaznaczone na mapie.

Pytanie 13 (2pkt) Podpisz na mapie nazwę państwa, które leży przy granicy z województwem małopolskim.

Pytanie 14 (2pkt) Który z wymienionych zestawów zawiera wyłącznie nazwy parków narodowych położonych w Karpatach?
A) Gór Stołowych, Tatrzański, Pieniński
B) Gorczański, Magurski, Bieszczadzki
C) Tatrzański, Roztoczański, Babiogórski
D) Pieniński, Bieszczadzki, Karkonoski

Pytanie 15 (2pkt) Podaj nazwę gatunku drzewa, które w Polsce jest dominujące w drzewostanie lasów.

