



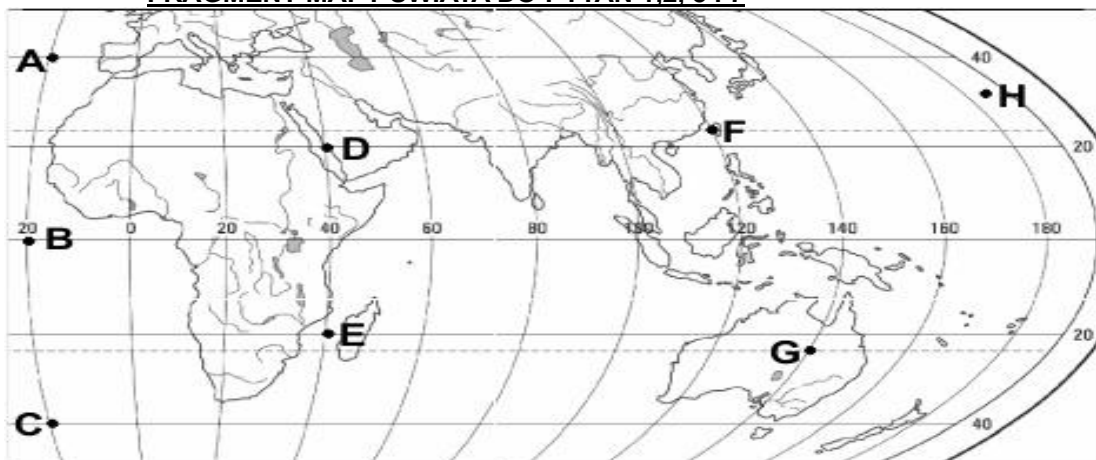
XI EDYCJA OGÓLNOPOLSKIEJ OLIMPIADY Z „GEOGRAFII”

skierowanej do uczniów klas 7 - 8 szkoły podstawowej
dnia 31 marca 2023r.



Liczba punktów do zdobycia: maksymalnie 25. Powodzenia!

FRAGMENT MAPY ŚWIATA DO PYTAŃ 1, 2, 3 i 7



Pytanie 1 (1pkt) Który z zaznaczonych na mapie punktów jest położony najdalej od zwrotnika Koziorożca?

- A) A B) B C) C D) D

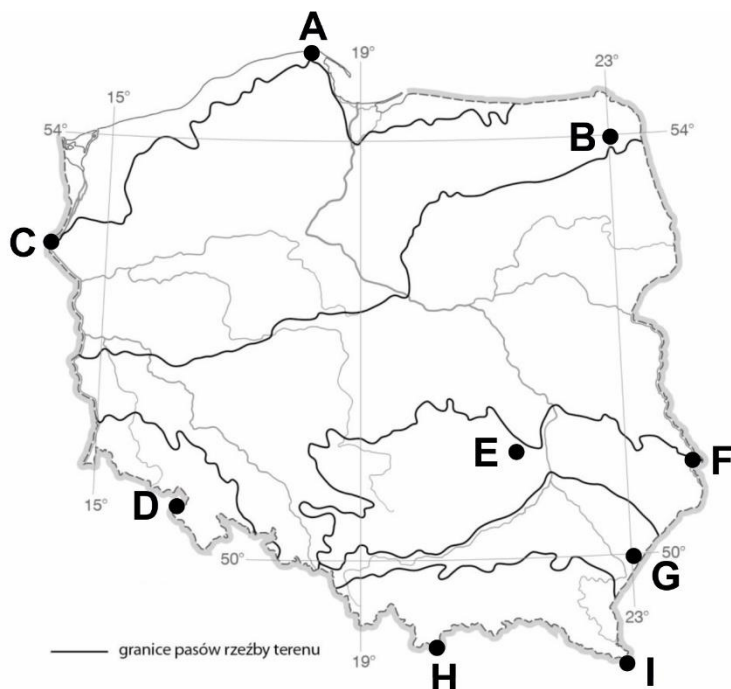
Pytanie 2 (1pkt) Które z zaznaczonych na mapie punktów znajdują się na półkuli zachodniej?

- A) A i E B) B i H C) C i F D) D i G

Pytanie 3 (1pkt) Który z zaznaczonych na mapie punktów ma współrzędne geograficzne 20°S, 40°W?

- A) A B) E C) C D) żaden z zaznaczonych

MAPA POLSKI DO PYTAŃ 4 - 6 i 8 - 10



Pytanie 4 (1pkt) W którym z zaznaczonych na mapie punktów, najdłuższy dzień trwa latem ponad 17 godzin?

- A) A B) F C) C D) I

Pytanie 5 (1pkt) Który spośród zaznaczonych na mapie punktów jest położony na obszarze gór zrębowych?

- A) H B) I C) E D) D

Pytanie 6 (2pkt) Który z opisów dotyczący położenia pasów rzeźby terenu w Polsce jest nieprawdziwy?

- A) w pasie pojezierzy znajduje się B
B) w pasie kotlin podkarpackich zaznaczono H
C) w Karpatach zaznaczono dwa punkty
D) D znajduje się w Sudetach

Pytanie 7 (2pkt) Oblicz, ile kilometrów dzieli w rzeczywistości zaznaczone na mapie świata punkty A i C?

Pytanie 8 (2pkt) Oblicz skalę liczbową mapy, na której punkty B i G oddalone są o 5 cm jeśli w rzeczywistości dzieli je 400 km.

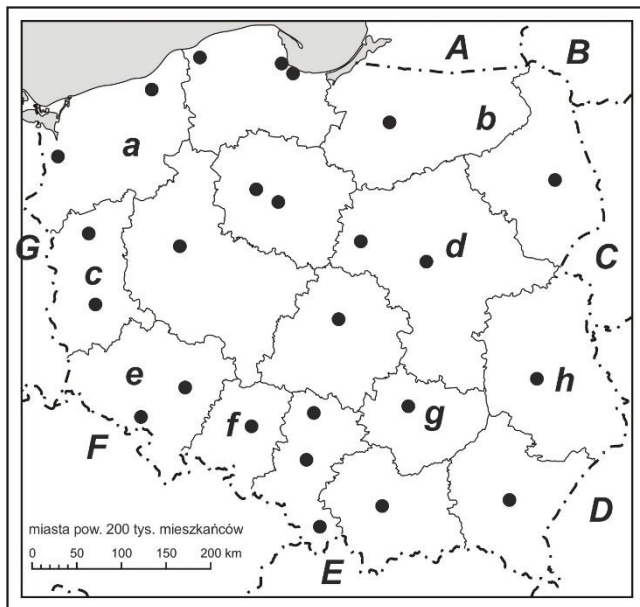
Pytanie 9 (2pkt) Który z zaznaczonych na mapie punktów znajduje się na obszarze, na który napływają najczęściej masy powietrza polarnego kontynentalnego?

Pytanie 10 (2pkt) W którym z punktów pokazanych na mapie zrobiono przedstawione zdjęcie?



- A) E
- B) B
- C) I
- D) D

MAPA ADMINISTRACYJNA DO PYTAŃ 11-13



Pytanie 11 (2pkt) Podpisz na mapie nazwę miasta zaznaczonego literą **d**, które nie pełni funkcji stolicy tego województwa.

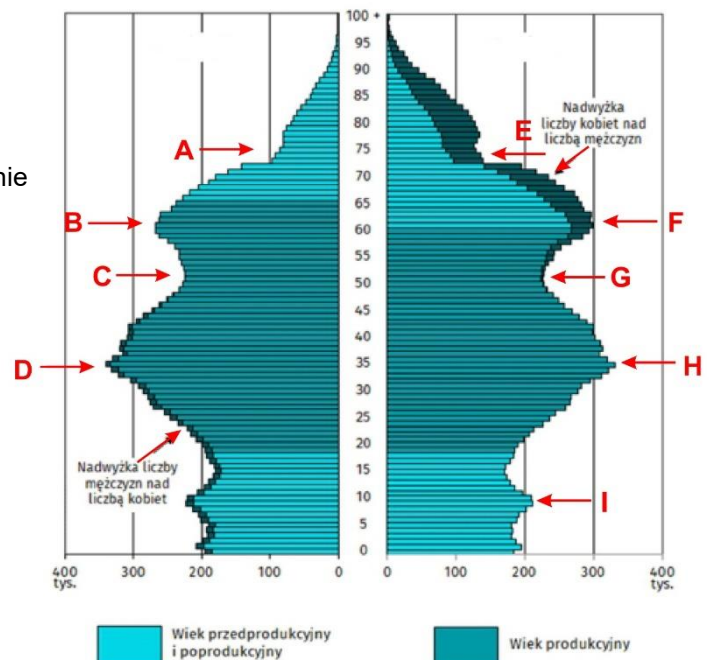
Pytanie 12 (2pkt) Podpisz na mapie nazwę województwa, które położone jest na granicy z Obwodem Kaliningradzkim.

Pytanie 13 (2pkt) Podpisz na mapie nazwę państwa z którym Polska ma najdłuższą granicę.

Pytanie 14 (2pkt) Który z wymienionych zestawów zawiera wyłącznie nazwy parków narodowych położonych w pasie pojezierzy?

- A) Wigierski, Kampinoski, Biebrzański
- B) Borów Tucholskich, Drawieński, Wigierski
- C) Poleski, Ujścia Warty, Słowiński
- D) Woliński, Białowiecki, Narwiański

Pytanie 15 (2pkt) Którą literą oznaczono strzałkę pokazującą mężczyzn roczników poprodukcyjnych?



Piramida płci i wieku ludności Polski w roku 2018