



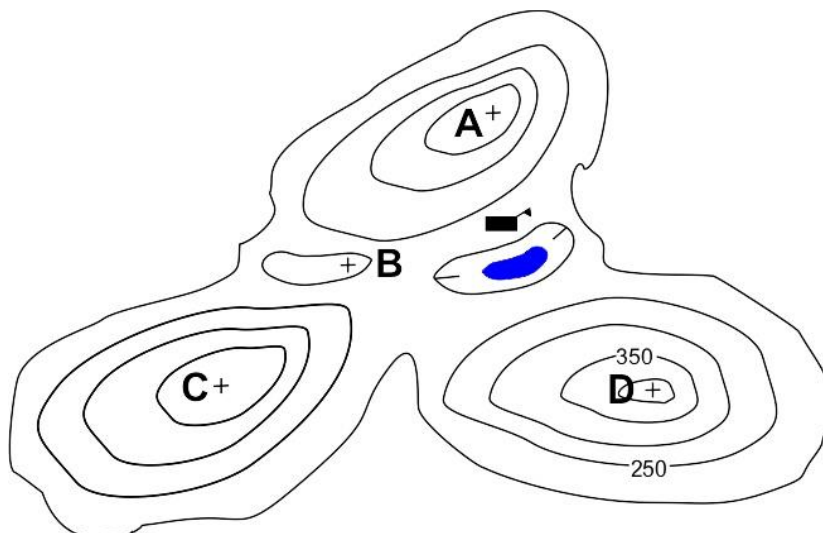
## XI EDYCJA OGÓLNOPOLSKIEJ OLIMPIADY Z „GEOGRAFII”

skierowanej do uczniów klas 5 - 6 szkoły podstawowej  
dnia 31 marca 2023r.



Liczba punktów do zdobycia: maksymalnie 25. Powodzenia!

### RYSUNEK DO PYTAŃ 1 – 4 i 7



**Pytanie 1 (1pkt)** W którym kierunku od schroniska znajduje się szczyt oznaczony literą D?

- A) na północny zachód      B) na SE      C) na SW      D) północny wschód

**Pytanie 2 (1pkt)** Które ze szczytów zaznaczonych na rysunku mogą mieć wysokość 360 m n.p.m.?

- A) A i D      B) B i C      C) C i A      D) D i C

**Pytanie 3 (1pkt)** Które ze zdań opisujące cechy położenia punktów na rysunku jest błędne?

- A) punkt B jest położony na W od jeziora      B) wysokość względna punktu B wynosi ponad 250 m n.p.m.  
C) schronisko położone jest na południe od punktu A      D) punkt D ma największą wysokość bezwzględną

**Pytanie 4 (1pkt)** Jak się nazywa forma terenu, w której znajduje się zaznaczone na rysunku jezioro?

- A) dolina      B) grzbiet      C) wąwóz      D) kotlina

**Pytanie 5 (1pkt)** W którym z wymienionych pasów rzeźby Polski zobaczymy formy krasowe?

- A) Wyżyny      B) Pojezierza      C) Niziny Środkowopolskie      D) Kotliny Podkarpackie

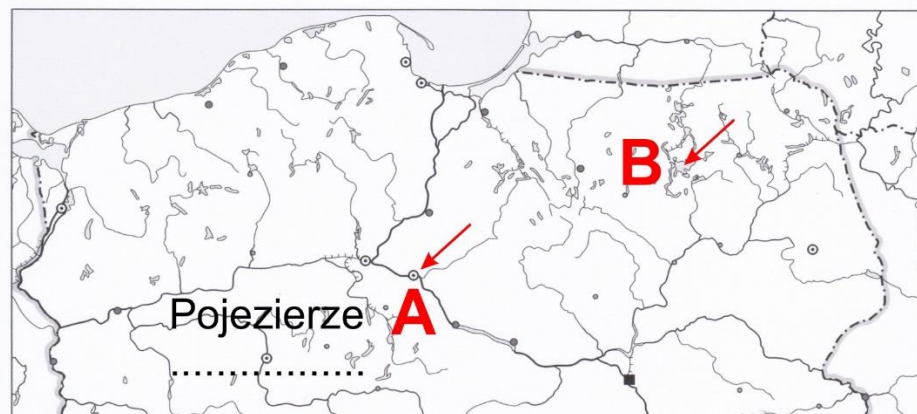
**Pytanie 6 (2pkt)** W którym z wymienionych parków narodowych zobaczymy pokazany na zdjęciu krajobraz?



- A) Tatrzańskim  
B) Białowieskim  
C) Słowińskim  
D) Ojcowskim

**Pytanie 7 (2pkt)** Punkty oznaczone na rysunku literami C i D dzieli na mapie w skali 1: 30 000 odległość 6 cm. Oblicz rzeczywistą odległość między tymi punktami w linii prostej, w terenie.

#### MAPA DO PYTAŃ 8 - 10

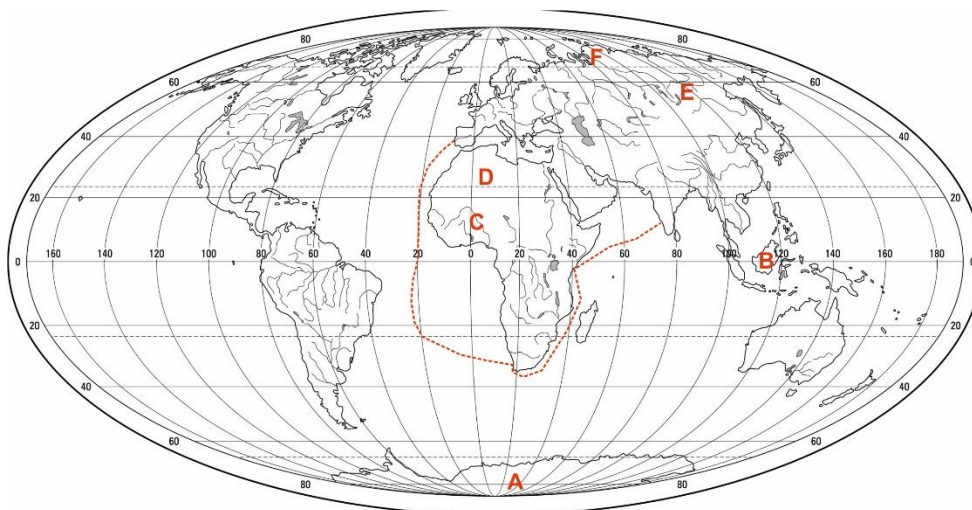


**Pytanie 8 (2pkt)** Wpisz na mapie właściwą nazwę pojezierza.

**Pytanie 9 (2pkt)** Podpisz nazwę jeziora wskazanego strzałką i literą B.

**Pytanie 10 (2pkt)** Wpisz na mapie nazwę miasta oznaczonej literą A.

#### MAPA DO PYTAŃ 11 - 14



**Pytanie 11 (2pkt)** Podpisz na mapie nazwy tych kontynentów, które w całości położone są na półkuli wschodniej.

**Pytanie 12 (2pkt)** Wpisz w odpowiednim miejscu na mapie imię i nazwisko odkrywcy, którego trasę podróży z końca XV wieku zaznaczono przerywaną linią.

**Pytanie 13 (2pkt)** W którym z miejsc opisanych na mapie literami odnotowywane są największe sumy opadów w ciągu roku? Podaj tę literę.

**Pytanie 14 (2pkt)**

Literami na mapie zaznaczono wybrane miejsca w kilku strefach krajobrazowych Ziemi. Która litera znajduje się na obszarze strefy tundry?

**Pytanie 15 (2pkt)** Wśród wymienionych gatunków zwierząt jedno w tym zestawie jest intruzem, bo zamieszkuje w innej strefie krajobrazowej niż pozostałe. Znajdź intruza.

*mors*

*pingwin*

*fenek*

*maskonur*