

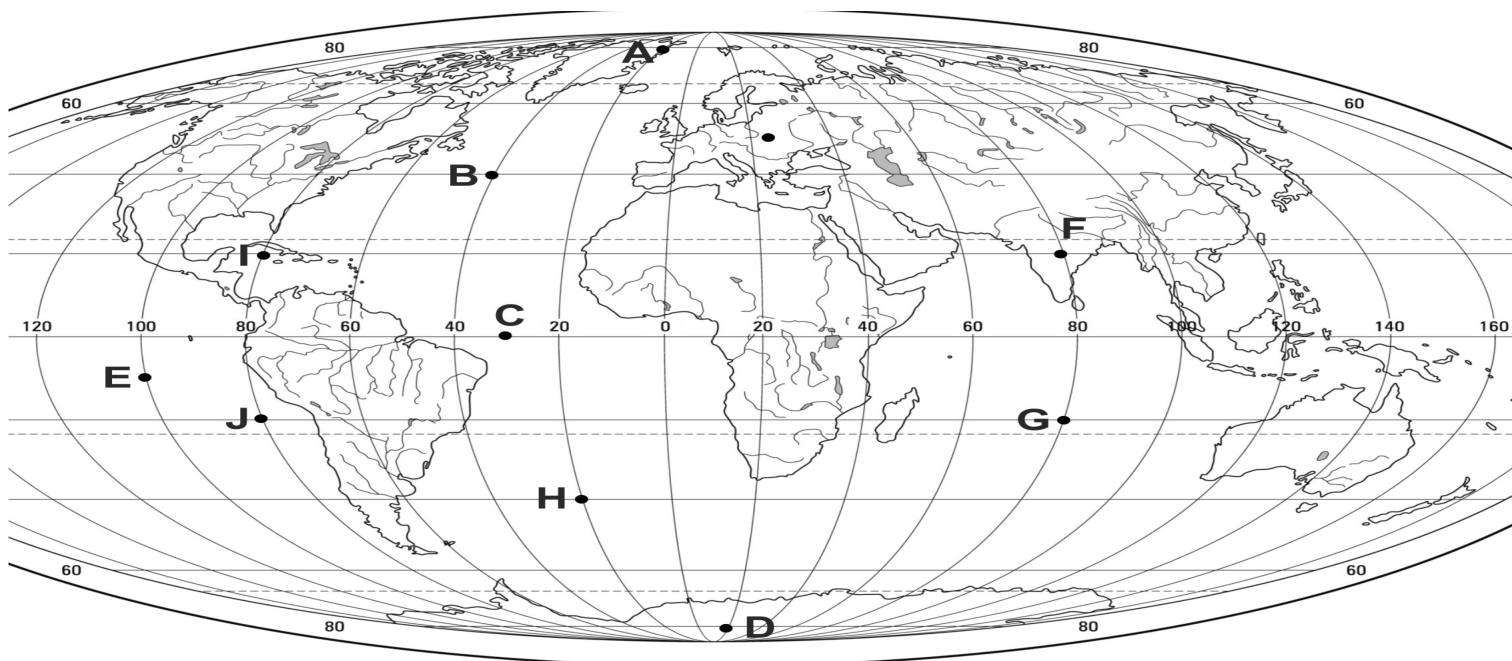


**VIII EDYCJA OGÓLNOPOLSKIEJ OLIMPIADY
Z „GEOGRAFII”**
skierowanej do uczniów klas 7 - 8 szkoły podstawowej
listopad 2021r.



Liczba punktów do zdobycia: maksymalnie 25. Powodzenia!

MAPA ŚWIATA DO PYTAŃ 1, 2, 3 i 7



Pytanie 1 (1pkt) Który z zaznaczonych na mapie punktów jest położony na półkuli północnej i zachodniej?

- A) B B) E C) F D) G

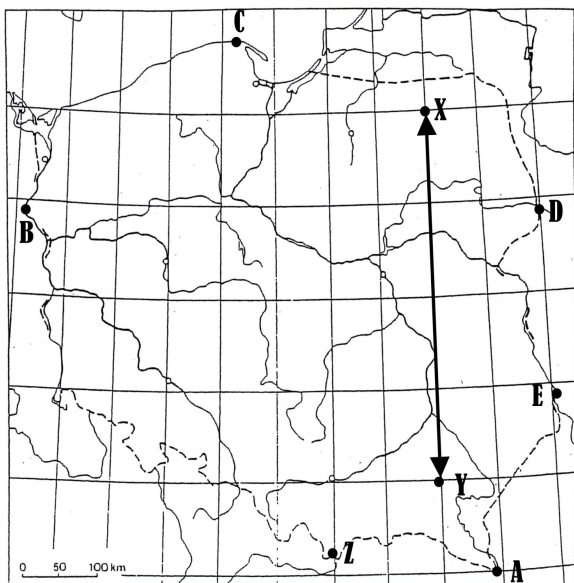
Pytanie 2 (1pkt) Który z zaznaczonych punktów położony jest najbliżej zwrotnika Raka?

- A) A B) D C) F D) G

Pytanie 3 (1pkt) Który z zaznaczonych na mapie punktów ma współrzędne geograficzne 20°S, 80°W?

- A) A B) D C) I D) J

MAPA POLSKI DO PYTAŃ 4 - 6 ORAZ 8 – 10



Pytanie 4 (1pkt) Punkt A znajduje się w najbardziej wysuniętym na południe miejscu terytorium naszego kraju. Z którym z państw graniczy tam Polska?

- A) Białorusią B) Ukrainą C) Czechami D) Słowacją

Pytanie 5 (1pkt) Szerokość geograficzna jednego spośród zaznaczonych na mapie punktów wynosi 50°50' N. Który to punkt?

- A) A B) B C) C D) E

Pytanie 6 (2pkt) Na obszarze, której z krain geograficznych położony jest punkt Y?

- A) Wyżyny Lubelskiej B) Wyżyny Małopolskiej
C) Kotliny Oświęcimskiej D) Kotlina Sandomierskiej

Pytanie 7 (2pkt) Oblicz, ile kilometrów dzieli w rzeczywistości zaznaczony na mapie świata punkt C od południka 0°?

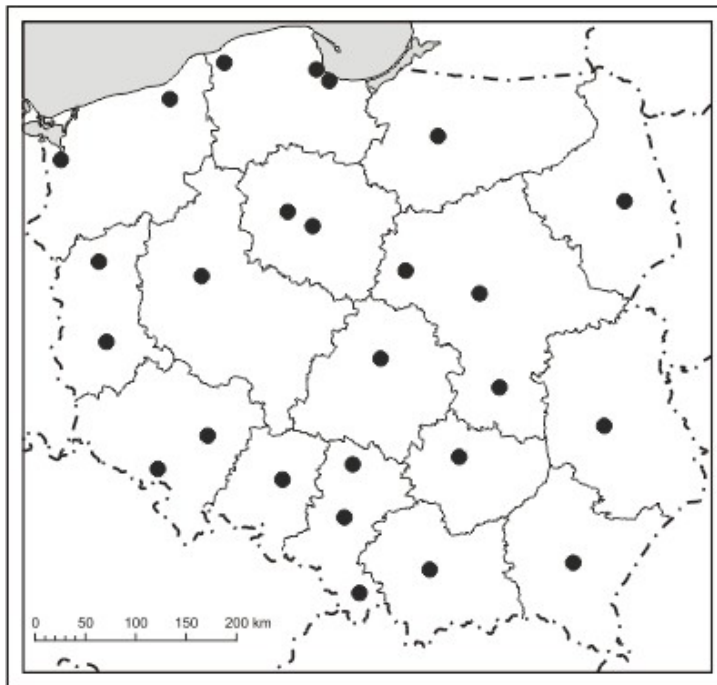
Pytanie 8 (2pkt) Odcinek XY ma na mapie Polski 4 cm długości. W terenie jest to 440 km. Oblicz skalę, w której wykonano tę mapę.

Pytanie 9 (2pkt) W którym z zaznaczonych na mapie literami miejsc w Polsce, 22 czerwca dzień trwa najdłużej?

Pytanie 10 (2pkt) Które ze zdań opisujących cechy klimatu w mieście oznaczonym na mapie Polski literą B jest fałszywe?

- A) Zimy należą do najłagodniejszych w Polsce.
- B) Latem średnie temperatury są niższe niż w punkcie Z.
- C) Okres wegetacji roślin należy do najdłuższych w Polsce.
- D) Suma rocznych opadów jest mniejsza niż w punkcie Z.

MAPA ADMINISTRACYJNA DO PYTAŃ 11 – 13



Pytanie 11 (2pkt) Podpisz na mapie nazwę państwa, z którym granicę przecina Bug.

Pytanie 12 (2pkt) Wpisz na mapie nazwę województwa położonego między województwem dolnośląskim, a zachodniopomorskim.

Pytanie 13 (2pkt) Podpisz na mapie miasto, które jest stolicą województwa położonego przy granicy z Litwą.

Pytanie 14 (2pkt) Który z wymienionych zestawów rzek zawiera nazwy rzek głównych?

- A) Warta, Nysa Łużycka, Noteć
- B) Wisła, Odra, Warta
- C) Wisła, Odra, Bzura
- D) Łeba, Parsęta, Wisła

Pytanie 15 (2pkt) Podaj nazwę parku narodowego, którego logotyp przedstawiono. Park ten jest znany min. z labiryntu skalnego „Błędne Skały”.

