



**VI EDYCJA OLIMPIADY OGÓLNOPOLSKIEJ  
„MISTRZOSTWA SZARADZIARSKIE – ZADANIA LOGICZNE”**  
skierowanej do uczniów klas 1 – 3 szkoły podstawowej  
dnia 13 listopada 2019r.  
czas pracy 60 minut



Zadania zostały przygotowane przez firmę edukacyjną OLIMP SCHOOL we współpracy z Wydawnictwem „SUPEŁEK”.

Liczba punktów do zdobycia: maksymalnie 13. Powodzenia!

*Uwaga! Można korzystać z prostego kalkulatora i przyrządów geometrycznych.*

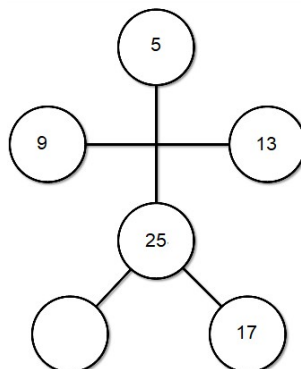
**Zadanie 1 (1pkt)** Która liczba będzie następną?

1	1	2	3	.....
---	---	---	---	-------

- A) 3      B) 4      C) 5      D) 7

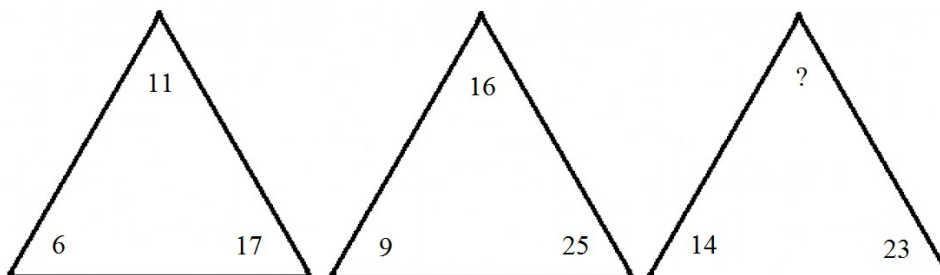
**Zadanie 2 (1pkt)** Którą liczbę należy wpisać w puste pole?

- A) 4  
B) 5  
C) 6  
D) 7

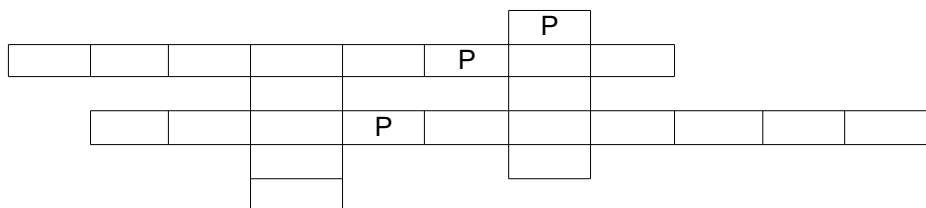


**Zadanie 3 (1pkt)** Jaka liczba kryje się pod znakiem zapytania?

- A) 9  
B) 17  
C) 21  
D) 34




**Zadanie 4 (2pkt)** Do diagramu wpisz nazwy przedmiotów widocznych na rysunkach. Wszystkie litery P zostały ujwanione.




**Zadanie 5 (2pkt)** Rozwiąż rebus.

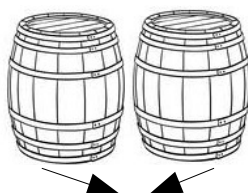
S = N



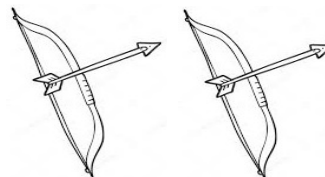
S = R



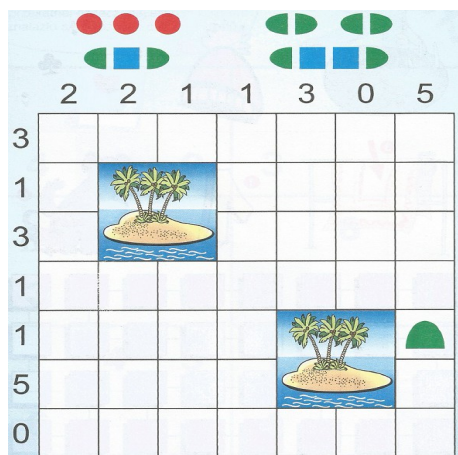
Ð



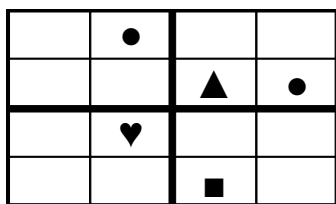
Ł



**Zadanie 6 (2pkt)** Na poniższym polu bitwy narysuj okręty: trzy jednomasztowce, dwa dwumasztowce, jeden trójmasztowiec i jeden czteromasztowiec. Statki nie mogą się ze sobą stykać nawet narożnikami, a liczby przy rzędach i kolumnach wskazują ilość członów statków w danej linii.



**Zadanie 7 (2pkt)** Diagram uzupełnij czterema różnymi obrazkami tak, aby nie powtarzały się w żadnym rzędzie poziomym, w żadnej kolumnie pionowej, ani w żadnym czteropolowym kwadracie.



**Zadanie 8 (2pkt)** Przyjrzyj się uważnie tym podobnie wyglądającym obrazkom i znajdź 7 szczegółów, którymi się różnią.

