

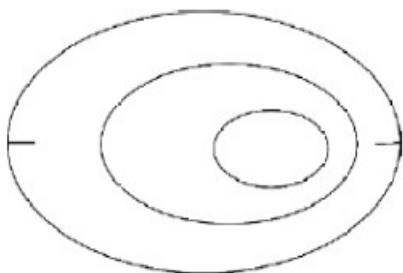


**IV EDYCJA KONKURSU OGÓLNOPOLSKIEGO
Z „PRZYRODY”**
skierowanego do uczniów klasy 6 szkoły podstawowej
dnia 16 listopada 2018r.
czas pracy 60 minut



Ilość punktów do zdobycia: maksymalnie 25. Powodzenia!

Pytanie 1 (1pkt) Którą z wymienionych form terenu pokazuje rysunek poziomicowy?



- A) dolina
- B) pagórek
- C) kanion
- D) kotlina

Pytanie 2 (1pkt) Na mapie wykonanej w której z podanych skal liczbowych, odległość z Łodzi do Warszawy wynosi 12 cm?

- A) 1 : 100 000
- B) 1 : 120 000
- C) 1 : 1 000 000
- D) 1 : 12 000 000

Pytanie 3 (1pkt) Kontur, którego z europejskich państw pokazuje rysunek?



- A) Portugalii
- B) Hiszpanii
- C) Francji
- D) Grecji

Pytanie 4 (1pkt) Granica z Niemcami biegnie wzdłuż rzek:

- A) Nysy Łużyckiej i Odry
- B) Bugu i Wisły
- C) Odry i Bugu
- D) Odry i Warty

Pytanie 5 (1pkt) Który z pokazanych symboli dotyczy Słowińskiego Parku Narodowego?



A)



B)

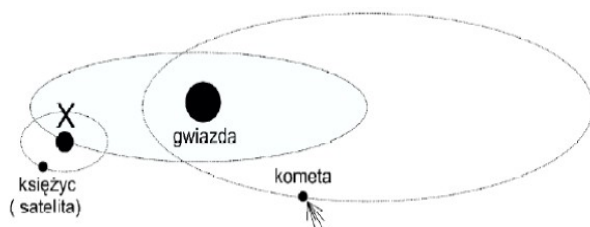


C)

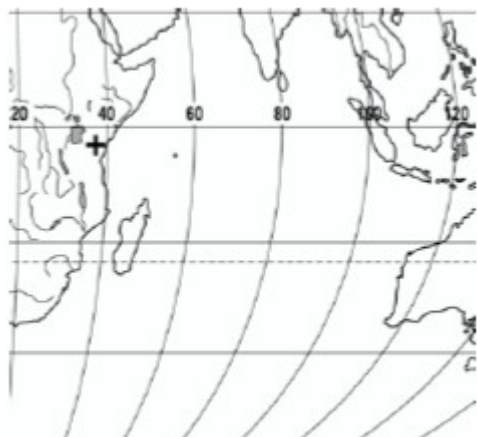


D)

Pytanie 6 (2pkt) Podaj nazwę ciała niebieskiego podpisanego na rysunku literką X.



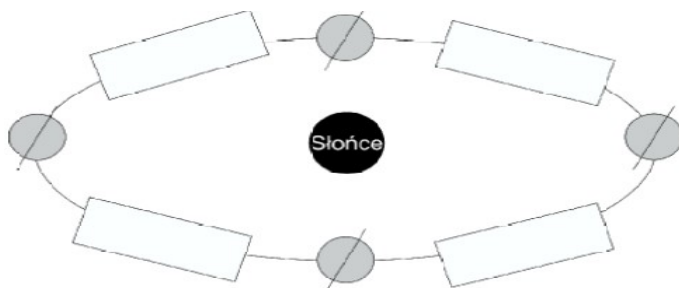
Pytanie 7 (2pkt) Który z oceanów przedstawiony jest na tym fragmencie mapy konturowej?



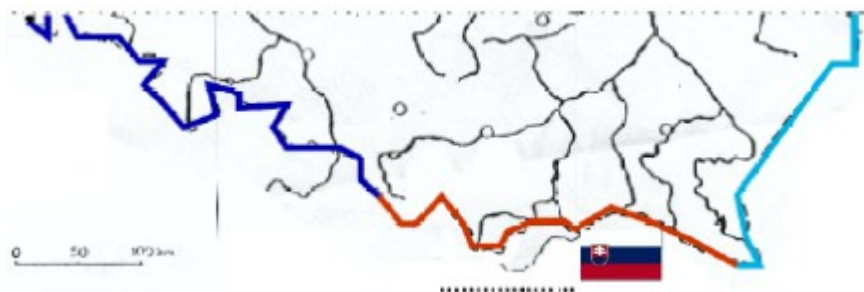
- A) Pacyfik
- B) Atlantyk
- C) Indyjski
- D) Spokojny

Pytanie 8 (2pkt) Oblicz, ile czasu potrzebuje Ziemia aby obrócić się wokół własnej osi o 60° ?

Pytanie 9 (2pkt) Rysunek przedstawia położenie Ziemi w różnych porach roku podczas jej ruchu obiegowego. Wpisz w odpowiednim prostokącie na orbicie Ziemi – LATO.

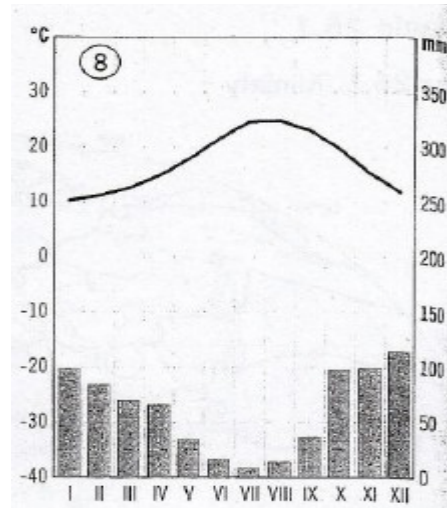


Pytanie 10 (2pkt) Podaj nazwę państwa graniczącego z Polską przez Karpaty.



Pytanie 11 (2pkt) Na podstawie przedstawionego diagramu klimatycznego określ, które ze zdań charakteryzujące ten klimat jest fałszywe.

- A) Najcieplejsze miesiące to lipiec i sierpień.
- B) Największe opady występują gdy są najniższe temperatury powietrza.
- C) Jest to klimat umiarkowany, który występuje w Polsce.
- D) Jest to klimat charakterystyczny dla południowej części Europy.



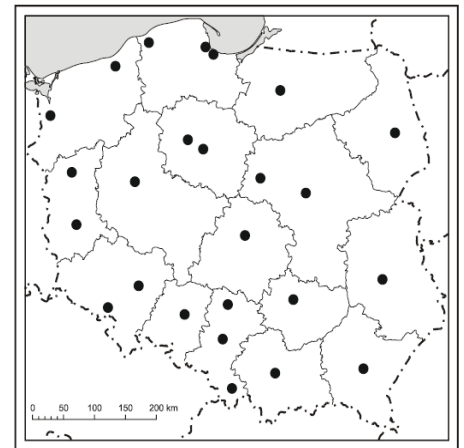
Pytanie 12 (2pkt) Które ze zwierząt przedstawionych na zdjęciach zamieszkuje strefę wilgotnych lasów równikowych?



MAPA DO PYTAŃ 13 – 14

Pytanie 13 (2pkt) Wpisz na mapce nazwę województwa, które leży na granicy Polski z Litwą.

Pytanie 14 (2pkt) Napisz, z iloma województwami graniczy województwo śląskie?



Pytanie 15 (2pkt) Strzałka wskazuje cieśninę, która nosi imię swego odkrywcy, który jako pierwszy dopłynął tam w roku 1520 podczas podróży dookoła świata. Podaj jego imię i nazwisko.

